



به نام خدا
مدارهای الکتریکی ۱
تمرین سری ششم

موسسه آموزش عالی خزر
غیرانتفاعی و غیردولتی

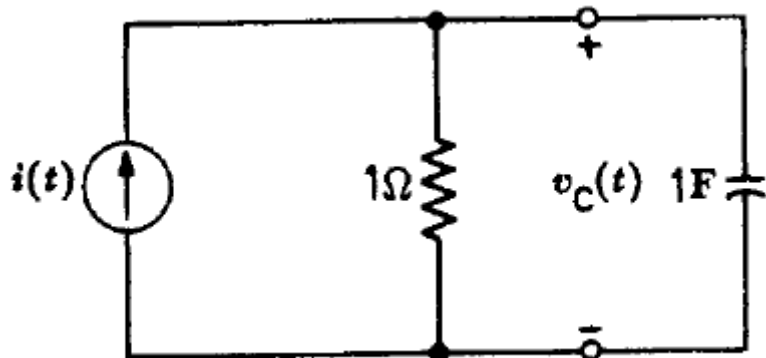
زمان تمویل: ۹۴/۲/۲۳

موضوع: مدار معادل تونن و نورتن

متن پرسش

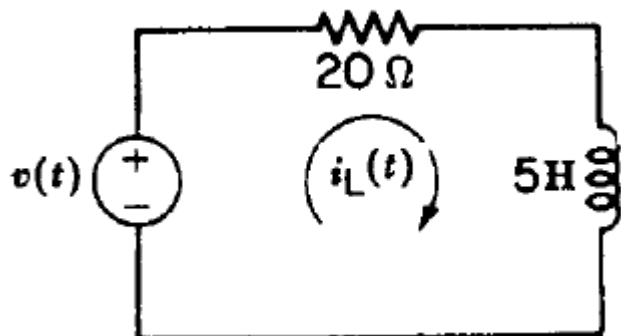
ردیف

در مدار زیر ولتاژ خازن را بدست آورید.



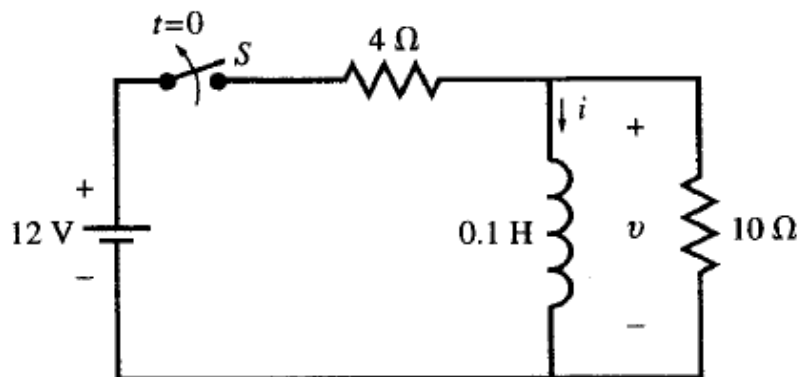
۱

در مدار مقابل رابطه جریان سلف را بدست آورید.



۲

در مدار مقابل رابطه جریان سلف را بدست آورید.



۳

تمرین شماره ۱ و ۲ (صفحات ۱۴۱ و ۱۴۲) کتاب مدارهای الکتریکی پیام نور

۴